

# ŠKOLSKO/OPĆINSKO/GRADSKO NATJECANJE IZ GEOGRAFIJE 2015. GODINE

Razred ili kategorija natjecanja: 4. razred

Zaporka 

--	--	--	--	--

 \_\_\_\_\_

Broj postignutih bodova \_\_\_\_ / 70

Potpis članova Školskog povjerenstva

1. \_\_\_\_\_

2. \_\_\_\_\_

3. \_\_\_\_\_

Mjesto i nadnevak: \_\_\_\_\_

Za rješavanje zadataka predviđeno je 60 minuta.

Test se rješava kemijskom olovkom s plavom tintom koja se ne briše. Uporaba obične olovke i crvene ili neke druge boje tinte (osim plave) rezultira diskvalifikacijom učenika.

Pri rješavanju testa treba primijeniti jezičnu normu standardnoga hrvatskoga jezika, posebice treba poštivati pravopisna pravila o pisanju velikoga i maloga početnoga slova geografskih imena. Za pisanje geografskih imena u testovima i praktičnim radovima primjenjuje se Hrvatski pravopis Instituta za hrvatski jezik i jezikoslovlje (2013.).

Odgovori učenika moraju biti čitljivo napisani pisanim slovima, osim u zadacima u kojima je odgovor jedno slovo dopuštena je uporaba čitljivo napisanog velikog tiskanog slova.

Za vrijeme testiranja ne smije se koristiti ništa osim navedenoga pribora za pisanje. Ova odredba podrazumijeva da natjecatelji ne smiju kod sebe (na sebi, ispod, u svojoj odjeći i slično) imati predmete koji na bilo koji način mogu dovesti u sumnju pravilno provođenje natjecanja. Učenici se ne smiju služiti atlasom, zidnom kartom ni računalom. Kartografski i grafički prilozi nužni za rješavanje zadataka sastavni su dio testa.

Učenicima se dopušta pisanje po marginama i praznim stranicama ispitnog materijala bez oduzimanja bodova i/ili diskvalifikacije.

Potpuno ispravno riješeni zadaci, prema uputi za rješavanje vrednuju se s jednim, dva ili tri boda. U djelomično ispravno riješenim zadacima boduju se ispravno riješene čestice, ako nije bilo korekcije odgovora u tim česticama. Netočno riješeni zadaci i naknadno ispravljeni odgovori te odgovori koji su pisani tiskanim slovima ili kombinacijom tiskanih i pisanih slova, kao i odgovori u zagradama ne vrednuju se.

**U PRVA TRI ZADATKA JEDAN JE ODGOVOR TOČAN. ZAOKRUŽI SLOVO  
ISPRED TOČNOG ODGOVORA.**

- 1** ☐ 1. Koji od navedenih gradova ima najveću srednju dnevnu amplitudu morskih mijena?  
a) Zadar                      b) Rijeka                      c) Split                      d) Dubrovnik
- 1** ☐ 2. Koliko zastupnika ima Hrvatska u Europskom parlamentu u mandatu od 2014. do 2019. godine?  
a) 10                      b) 11                      c) 12                      d) 15
- 1** ☐ 3. Koji je grad prvi dobio status slobodnog kraljevskog grada?  
a) Zagreb                      b) Sisak                      c) Vukovar                      d) Varaždin

**U SVAKOM OD SLJEDEĆIH SEDAM ZADATAKA DVA SU TOČNA ODGOVORA.  
ZAOKRUŽI SLOVA ISPRED TOČNIH ODGOVORA.**

- 2** ☐ 4. Koji se od navedenih prijevoja nalaze na trasi stare ceste Lujzijane?  
a) Banska vrata                      b) Vratnik                      c) Delnička vrata                      d) Prezid                      e) Gornje Jelenje
- 2** ☐ 5. Koji od navedenih otoka ne pripadaju unutarnjim morskim vodama?  
a) Lastovo                      b) Svetac                      c) Vis                      d) Unije                      e) Mljet
- 2** ☐ 6. Kroz koje od navedenih zavala polja u kršu prolazi autocesta A1?  
a) Kravsko polje                      b) Kosovo polje                      c) Gacko polje                      d) Ličko polje                      e) Sinjsko polje
- 2** ☐ 7. Koji od navedenih spojeva daju crvenu boju tlu crvenici koja prekriva zapadne dijelove Istre?  
a)  $\text{SiO}_2$                       b)  $\text{CaCO}_3$                       c)  $\text{Fe}_2\text{O}_3$                       d)  $\text{CaMg}(\text{CO}_3)_2$                       e)  $\text{Al}_2\text{O}_3$
- 2** ☐ 8. Na kojim su od navedenih geografskih područja rasprostranjeni škrljavci?  
a) Biokovo                      b) Psunj                      c) Mala Kapela                      d) Lonjsko polje                      e) Moslavačka gora
- 2** ☐ 9. Koji su od navedenih egzogenih agenasa nataložili Đurđevačke pijeske?  
a) tekućica                      b) ledenjak                      c) more                      d) vjetar                      e) čovjek
- 2** ☐ 10. Koje su od navedenih vrsta drveća karakteristične za poloje?  
a) jela                      b) topola                      c) bukva                      d) hrast kitnjak                      e) joha

**U SLJEDEĆEM ZADATKU POVEŽI STUPCE UPISIVANJEM JEDNOG SLOVA  
I JEDNOG BROJA NA CRTU ISPRED POJMOVA U PRVOM STUPCU.  
DVA SLOVA I DVA BROJA SU VIŠAK.**

- 3** ☐ 11. Poveži jezera s načinom postanka zavale i županijom u kojoj se nalaze.
- |                        |                         |                                  |
|------------------------|-------------------------|----------------------------------|
| _____ Crveno jezero    | A) tektonsko jezero     | 1) Primorsko-goranska županija   |
| _____ Visovačko jezero | B) riječno jezero       | 2) Splitsko-dalmatinska županija |
| _____ jezero Sabljaki  | C) šljunčara            | 3) Karlovačka županija           |
| (Sabljadi)             | D) akumulacijsko jezero | 4) Ličko-senjska županija        |
|                        | E) krško jezero         | 5) Šibensko-kninska županija     |

**U SLJEDEĆA DVA ZADATKA POVEŽI DESNI STUPAC S LIJEVIM UPISIVANJEM  
SAMO JEDNOG SLOVA NA CRTE ISPRED POJMOVA U LIJEVOM STUPCU.  
JEDAN JE POJAM U DESNOM STUPCU VIŠAK.**

**2** 12. Poveži županije s prometnim pravcima koji djelomično prolaze njihovim teritorijem.

- |                        |                           |
|------------------------|---------------------------|
| _____ posavski         | A) Varaždinska            |
| _____ jadransko-jonski | B) Krapinsko-zagorska     |
| _____ podravski        | C) Požeško-slavonska      |
| _____ pyhrnski         | D) Dubrovačko-neretvanska |
|                        | E) Sisačko-moslavačka     |

**2** 13. Poveži vrste tla s geografskim područjima u kojima prevladavaju.

- |                                |                          |
|--------------------------------|--------------------------|
| _____ Mljet                    | A) podzoli               |
| _____ Vukovarska lesna zaravan | B) smeđa tla na flišu    |
| _____ Lonjsko polje            | C) aluvijalna tla        |
| _____ Ravni kotari             | D) crnica                |
|                                | E) smeđa tla na vapnencu |

**U SLJEDEĆIH DEVET ZADATAKA DOPUNI REČENICE.**

**2** 14. Sabor Republike Hrvatske je Odluku o raskidu državno-pravne sveze s ostalim republikama i pokrajinama SFRJ donio dana \_\_\_\_\_ (*upiši datum*) te danas toga dana obilježavamo praznik pod nazivom \_\_\_\_\_.

**2** 15. Hrvatska ima granični spor s Crnom Gorom oko poluotoka \_\_\_\_\_ (*upiši ime*), a s BiH oko poluotoka \_\_\_\_\_ (*upiši ime*).

**3** 16. Rijeka s najvećim hidroenergetskim potencijalom u Hrvatskoj je \_\_\_\_\_ (*upiši ime*). Ime najvećeg akumulacijskog jezera smještenog na toj rijeci je jezero \_\_\_\_\_, a nalazi se u \_\_\_\_\_ županiji. (*upiši ime*)

**2** 17. Trajektna linija Zadar-Preko povezuje Zadar s otokom čije je ime \_\_\_\_\_. Taj otok je mostom povezan sa susjednim otokom čije je ime \_\_\_\_\_.

**2** 18. Najpoznatiji termalni izvor na Banovini nalazi se u naselju čije je ime \_\_\_\_\_, a administrativno pripada županiji čije je ime \_\_\_\_\_ županija.

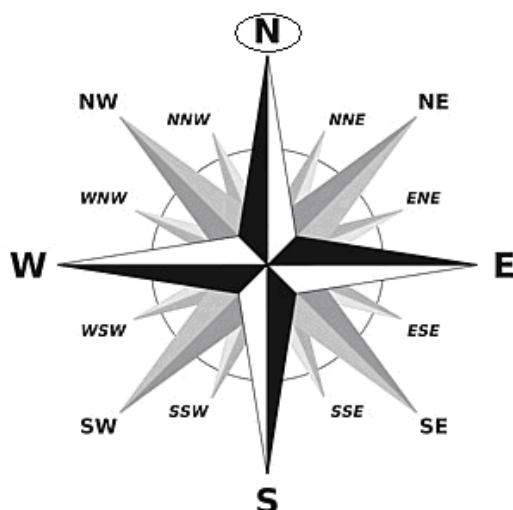
**1** 19. Ime otočića na kojemu je očuvana šuma hrasta crnike je \_\_\_\_\_, a taj otočić administrativno pripada gradu Krku na otoku Krku.

**2** 20. Na karbonatnoj podlozi gorske i primorske Hrvatske česte su rijeke koje dijelom svoga toka teku podzemljem, a nazivaju se \_\_\_\_\_. Kada voda izvire ispod morske površine takvo podmorsko vrelo nazivamo \_\_\_\_\_.

**1** 21. Ime rijeke čiji se rijas vidi s Masleničkog mosta je \_\_\_\_\_.

**2** 22. Jedinice lokalne samouprave u Hrvatskoj su \_\_\_\_\_ i \_\_\_\_\_.

**SLJEDEĆA DVA ZADATKA RIJEŠI UZ POMOĆ RUŽE VJETROVA.**



- 2**  23. a) Naziv vjetra koji puše u primorju iz smjera koji je zaokružen na ruži vjetрова je \_\_\_\_\_.
- b) Na ruži vjetрова zaokruži stranu svijeta s koje puše punenat/pulenat.
- 2**  24. a) Naziv vjetra koji podiže najviše valove na Jadranskom moru je \_\_\_\_\_.
- b) Podcrtaj na ruži vjetрова stranu svijeta s koje puše taj vjetar.

**SLJEDEĆA DVA ZADATKA RIJEŠI UZ POMOĆ FOTOGRAFIJA.**



- 3**  25. a) Poznata hrvatska plaža prikazana na slici **A** u sklopu je naselja čije je ime \_\_\_\_\_, a to je naselje smješteno na otoku čije je ime \_\_\_\_\_.
- b) Prikazana plaža primjer je reljefnog oblika koji se naziva \_\_\_\_\_.
- 2**  26. Slika **B** prikazuje detalj s najvećeg i najpoznatijeg hrvatskog nalazišta neandertalskog čovjeka. Nalazište se zove \_\_\_\_\_, a smješteno je u sklopu grada čije je ime \_\_\_\_\_.

**SLJEDEĆI ZADATAK RIJEŠI UZ POMOĆ GRAFIČKOG PRIKAZA.**

**2** 27. Hrvatski grb ima u kruni pet povijesnih grbova.

a) Grb označen slovom **A** je povijesni grb

\_\_\_\_\_

b) Grb označen slovom **B** je povijesni grb

\_\_\_\_\_



**SLJEDEĆA TRI ZADATKA RIJEŠI UZ POMOĆ KARTE HRVATSKE.**

**2** 28. a) Upiši u priloženu geografsku kartu znak **X** u županiju u kojoj se nalazi neolitsko nalazište Vučedol, a na crtu upiši njeno ime. \_\_\_\_\_ županija

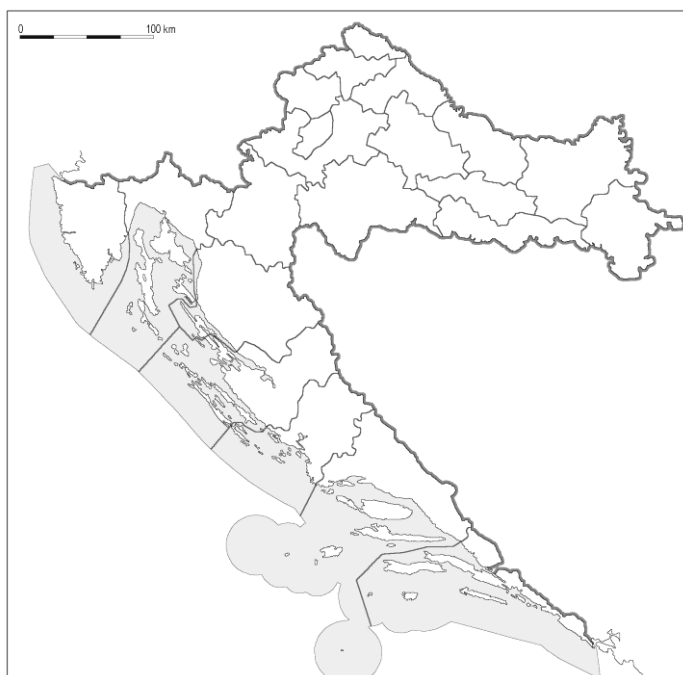
b) Upiši u priloženu geografsku kartu znak **Y** u županiju u kojoj se nalazi rijas rijeke Raše, a na crtu ime te županije. \_\_\_\_\_ županija

**3** 29. a) Na priloženoj geografskoj karti vodoravnim crtama u cijelosti ispuni županiju u kojoj se nalazi najviši vrh panonsko-peripanonske Hrvatske.

b) Ime tog vrha je \_\_\_\_\_, a nalazi se na reljefnoj uzvisini čije je ime \_\_\_\_\_ gora.

**3** 30. a) Ako se uzme u obzir i otočni prostor Republike Hrvatske najjužnija točka Hrvatske je otočić \_\_\_\_\_ (upiši ime) koji pripada otočnoj skupini čije je ime \_\_\_\_\_ otoci.

b) Na priloženoj geografskoj karti okomitim crtama u cijelosti ispuni županiju kojoj pripada taj otočić.



**SLJEDEĆA TRI ZADATKA RIJEŠI UZ POMOĆ KARTE  
PANONSKO-PERIPANONSKE HRVATSKE.**

- 2** 31. Brojevima su na priloženoj geografskoj karti označene dvije reljefne uzvisine panonsko-peripanonske Hrvatske. Na crte iza brojeva upiši njihova imena.

**1** \_\_\_\_\_

**2** \_\_\_\_\_

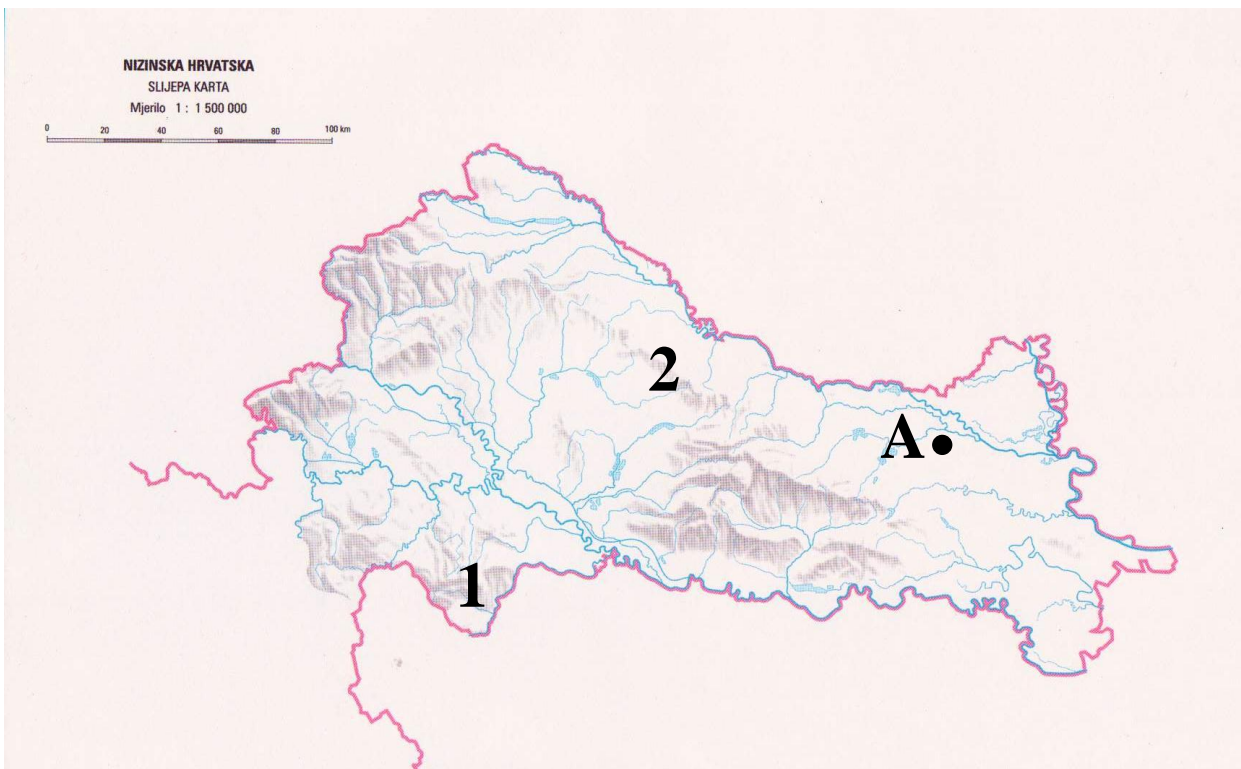
- 3** 32. a) Na crte iza brojeva upiši imena rijeka koje omeđuju Međimurje. Na priloženoj geografskoj karti na te rijeke upiši odgovarajuće brojeve.

**1** \_\_\_\_\_

**2** \_\_\_\_\_

b) Na priloženoj geografskoj karti kosim crtama u cijelosti ispuni prostor Međimurja.

- 1** 33. Ime termalnog izvora na priloženoj geografskoj karti označenog točkom uz slovo **A** je \_\_\_\_\_ toplice.



**U SLJEDEĆA DVA ZADATKA NA CRTE UPIŠI ODGOVARAJUĆE BROJEVE.**

- 2** 34. Brojevima od 1 do 4 poredaj vrste vegetacije panonsko-peripanonskog prostora prema nadmorskoj visini na kojoj prevladavaju, tako da brojem 1 označiš vegetaciju na najmanjoj visini, a brojem 4 onu koja je na najvećoj visini.

\_\_\_\_ bukva      \_\_\_\_ hrast lužnjak      \_\_\_\_ grab      \_\_\_\_ jela

- 2** 35. Brojevima od 1 do 4 poredaj reljefne cjeline od zapada prema istoku, tako da brojem 1 označiš cjelinu koja je smještena najzapadnije, a brojem 4 onu koja je smještena najistočnije.

\_\_\_\_ Čićarija      \_\_\_\_ Konavle      \_\_\_\_ Ivanščica      \_\_\_\_ Moslavačka gora